



**Administração**  
**Processo Seletivo:**  
**20/01/2019**

**Língua Portuguesa**

**Questão 1** Ao pluralizar os termos sublinhados em “O fator citado não irá causar tal sintoma se a pessoa não tiver propensão a ter a disfunção.”, quantas outras palavras obrigatoriamente sofrerão alteração para fins de concordância? (OBJETIVA, 2016)

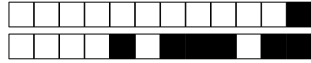
- A) Quatro.
- B) Cinco.
- C) Seis.
- D) Sete.
- E) Oito.

**Questão 2** Na frase: Ao terminar a prova, todos os candidatos deverão aguardar a verificação dos aplicadores. A oração destacada faz referência a: (FAU-UNICENTRO, 2016)

- A) Condição.
- B) Finalidade.
- C) Tempo.
- D) Comparação.
- E) Conformidade.

**Questão 3** Na frase: “O livro que estou lendo é muito interessante”. A palavra destacada é um: (FAU-UNICENTRO, 2016)

- A) Artigo.
- B) Substantivo.
- C) Adjetivo.
- D) Verbo.
- E) Pronome.



#### Questão 4

Assinalar a alternativa que apresenta uma oração subordinada substantiva objetiva direta reduzida de infinitivo: (OBJETIVA, 2016)

- A) Declarei estar ocupado.
- B) Chovendo, não sairei.
- C) Alongou-se tanto no passeio, que chegou tarde.
- D) À medida que a idade chega, a nossa experiência aumenta.

#### Questão 5

A primeira estrofe da canção que serve de tema para a novela “A Regra do Jogo” diz: “O Sol há de brilhar mais uma vez / A luz há de chegar aos corações / Do mal será queimada a semente / O amor será eterno novamente.” (Nelson Cavaquinho e Élcio Soares)

Observa-se, neste trecho, a presença da seguinte figura de linguagem: (FUNRIO, 2016)

- A) metáfora.
- B) catacrese.
- C) pleonasma.
- D) eufemismo.
- E) onomatopeia.

**Questão 6** Assinale a alternativa que mostra uma frase com erro de concordância segundo as regras da língua-padrão. (FUNRIO, 2016)

- A) A pesquisa linguística e o ensino de gramática normativa deve caminhar lado a lado nas aulas de língua.
- B) As pesquisas realizadas por vários autores representam um marco divisor no campo da reflexão linguística.
- C) Os fatores que atuam sobre o comportamento linguístico dos falantes podem ser internos ou externos ao sistema.
- D) Vários estudos e pesquisas enfocam a variação na concordância de número como bastante geral e bem significativa.
- E) A linguística e os estudos sobre variação contribuíram muito para concretizar uma nova prática no ensino da língua.



### Questão 7

As comunicações que partem dos órgãos públicos federais devem ser compreendidas por todo e qualquer cidadão brasileiro. Para atingir esse objetivo, há que evitar o uso de uma linguagem restrita a determinados grupos. Não há dúvida que um texto marcado por expressões de circulação restrita, como a gíria, os regionalismos vocabulares ou o jargão técnico, tem sua compreensão dificultada. (Manual de Redação da Presidência da República)

Sobre o trecho transcrito acima é correto afirmar que seu segundo período tem uma oração (FUNRIO, 2016)

- A subordinada adjetiva.
- B coordenada sindética.
- C subordinada adverbial.
- D coordenada assindética.
- E subordinada substantiva.

**Questão 8** A regência do verbo sublinhado está INCORRETA em: (OBJETIVA, 2016)

- A Para prevenir a ocorrência desse problema, é possível adotar algumas medidas.
- B Geralmente os sinais da doença incluem sensação de fraqueza, perda de peso, febre e sudorese noturna.
- C Para elas restam drogas menos eficazes e mais tóxicas e caras.
- D Normalmente afeta a pulmões, mas é capaz de atingir outras partes do corpo como cérebro, rins ou coluna vertebral.



**Questão 9** Em textos em Língua Portuguesa sabe-se que a alteração de pontuação pode prejudicar a organização do texto e, muitas vezes, mudar o sentido da frase. Leia a sentença abaixo e indique a alternativa em que a alteração da pontuação mantém o texto correto:

“O quadro de Segurança do Trabalho de uma empresa compõe-se de uma equipe multidisciplinar composta por Técnico de Segurança do Trabalho, Engenheiro de Segurança do Trabalho, Médico do Trabalho e Enfermeiro do Trabalho.” (IBFC, 2016)

- A O quadro de Segurança do Trabalho, de uma empresa compõe-se de uma equipe multidisciplinar composta por Técnico de Segurança do Trabalho, Engenheiro de Segurança do Trabalho, Médico do Trabalho e Enfermeiro do Trabalho.
- B O quadro de Segurança do Trabalho de uma empresa, compõe-se de uma equipe multidisciplinar composta por Técnico de Segurança do Trabalho, Engenheiro de Segurança do Trabalho, Médico do Trabalho e Enfermeiro do Trabalho.
- C O quadro de Segurança do Trabalho de uma empresa compõe-se de uma equipe multidisciplinar composta por: Técnico de Segurança do Trabalho, Engenheiro de Segurança do Trabalho, Médico do Trabalho e Enfermeiro do Trabalho.
- D O quadro de, Segurança do Trabalho de uma empresa compõe-se, de uma equipe multidisciplinar composta por Técnico de Segurança do Trabalho, Engenheiro de Segurança do Trabalho, Médico do Trabalho e Enfermeiro do Trabalho.

**Questão 10**

O novo acordo ortográfico nos apresentou algumas alterações de acentuação de palavras em Língua Portuguesa. Leia as alternativas abaixo e assinale a que apresenta somente palavras acentuadas corretamente.(IBFC, 2016)

- A Seqüência, idéia, caráter, bóia, saúde.
- B Sequência, idéia, carater, bóia, saúde.
- C Sequência, ideia, caráter, boia, saúde.
- D Seqüência, ideia, caráter, bóia, saude.



## Matemática

**Questão 11** O algoritmo das unidades do número  $11^1 + 11^2 + 11^3 + \dots + 11^6$  é: (NC-UFPR, 2016)

- A 1.
- B 6.
- C 7.
- D 9.

**Questão 12** A represa X, que abastece de água determinada cidade, tem capacidade para 480 milhões de metros cúbicos de água. (CESPE, 2016)

Considere que trinta anos após o início de operação da represa X, a quantidade de usuários dos recursos hídricos dessa represa tenha quadruplicado, enquanto a quantidade de água retirada diariamente tenha triplicado. Nessa situação, sabendo-se que, em determinado dia, o quociente [quantidade de água retirada da represa]/[quantidade de usuários] dá o consumo médio de água de cada usuário nesse dia, é correto afirmar que, trinta anos depois do início de operação da represa, o consumo médio diário

- A caiu em 25%.
- B aumentou em 75%.
- C aumentou em 33%.
- D aumentou em 25%.
- E caiu em 75%.



**Questão 13** Paula, Karine e Carla estão correndo na esteira da academia. considere que: (IDECAN, 2016)

- Karine corre durante  $x$  minutos;
- Carla corre  $X + 3$  minutos a mais que Karine; e,
- Paula, com a intenção de superar as duas amigas, corre 8 minutos a mais que Carla, totalizando 35 minutos.

Quantos minutos Karine correu na esteira?

- A 10 minutos.
- B 12 minutos.
- C 14 minutos.
- D 16 minutos.

**Questão 14** Considere as afirmativas:(IDECAN, 2016)

- I. 103 é o menor número primo maior que 100.
- II. A raiz da equação maior que 1 e menor que 2.
- III. 19.572 é divisível por 3, 4 e 6.

Estão corretas as afirmativas

- A I, II e III.
- B I e II, apenas.
- C I e III, apenas.
- D II e III, apenas.



**Questão 15** Para viajar aos Estados Unidos, Lucas trocou  $X$  euros por dólares americanos, a uma razão de sete dólares para cada seis euros. Após gastar 1000 dólares nos Estados Unidos, Lucas verificou que ainda tinha  $X/2$  dólares americanos.

O valor de  $X$  é:

- A) 2000;
- B) 1800;
- C) 1750;
- D) 1600;
- E) 1500.

**Questão 16** Cinco pessoas estão sentadas em cinco cadeiras em linha, cada uma com uma moeda na mão. As moedas são todas bem equilibradas, de modo que a probabilidade de sair cara ou coroa em cada uma delas é  $1/2$ . Em um determinado momento, as cinco pessoas jogam suas respectivas moedas. Aquelas que obtiverem cara continuam sentadas, e as que obtiverem coroa levantam-se.

Após esse procedimento, a probabilidade de que **NÃO** haja duas pessoas adjacentes, ambas sentadas ou ambas de pé, é de: (FGV, 2016)

- A)  $1/2$ ;
- B)  $1/8$ ;
- C)  $1/16$ ;
- D)  $3/32$ ;
- E)  $5/32$ ;

**Questão 17** Para pintar um muro, três pintores gastam oito horas. Trabalhando num ritmo 20% mais lento, a quantidade de horas que cinco pintores levarão para pintar esse mesmo muro é igual a (ESAF, 2016)

- A) 4.
- B) 6.
- C) 5.
- D) 8.
- E) 7.



**Questão 18** “Seu” Joaquim é comerciante e, em janeiro, resolveu aumentar o preço de certo produto em 25%. Naturalmente, com a crise, as vendas do produto caíram drasticamente e “Seu” Joaquim decidiu retornar ao preço de antes do aumento. Assim, “Seu” Joaquim anunciará um desconto sobre o preço atual de: (BIORIO, 2016)

- A) 20%.
- B) 22%.
- C) 24%.
- D) 25%.
- E) 30%.

**Questão 19** Uma folha de papelão com 80 cm de largura por 1,40m de comprimento foi totalmente dividida em quadrados iguais e de maior lado possível, não ocorrendo sobras. O número de quadrados, cuja soma das áreas corresponde a 25% da área total da folha, é (VUNESP, 2016)

- A) 9.
- B) 8.
- C) 7.
- D) 6.
- E) 5.





**Questão 20** Uma pesquisa foi realizada com 40 alunos de Ensino Médio com o intuito de verificar qual curso eles gostariam de cursar em determinada universidade, dentre Direito, Administração e Medicina. Os resultados foram os seguintes:

- 8 alunos gostariam de estudar somente Direito.
- 3 alunos gostariam de estudar somente Direito e Medicina.
- 12 alunos gostariam de estudar somente Medicina.
- 1 aluno gostaria de estudar somente Medicina e Administração.
- 6 alunos gostariam de estudar somente Administração e Direito.
- 17 alunos gostariam de estudar Administração.
- 5 alunos gostariam de estudar os três cursos.

Sabendo-se que todos responderam que cursariam ao menos um dos cursos oferecidos por essa universidade, do total de alunos entrevistados, quantos por cento gostariam de estudar somente Administração?

- A) 8,6%
- B) 12,5%
- C) 16,8%
- D) 22,5%



## Específica

**Questão 21** O componente do planejamento estratégico do poder judiciário pelo qual o servidor busca garantir agilidade nos trâmites judiciais e administrativos é (CESPE, 2013)

- A a visão organizacional.
- B o objetivo estratégico.
- C o atributo organizacional.
- D o fator crítico de sucesso.
- E a missão organizacional.

**Questão 22** O processo de levantamento de informações para entendimento de algum tipo de problema, ou para encontrar uma solução pode ser um trabalho mais difícil quando utiliza-se técnicas formais de entrevistas e reuniões em grupo. A utilização de técnicas informais podem ser um caminho mais fácil para coletar informações preciosas sobre um determinado problema, pois não existe a pressão do formalismo que pode inibir a criatividade. Esta técnica informal utilizada em reuniões empresariais é *Brainstorming* que (FCC, 2014)

- A realiza entrevistas individuais.
- B abrevia e interpreta as ideias apresentadas pelos participantes no ato em que elas são anotadas.
- C limita o número de ideias colocadas por participante.
- D seleciona as ideias no ato em que as mesmas são apresentadas pelos participantes.
- E estimula as ideias criativas e, muitas vezes, exóticas por parte dos participantes.



**Questão 23** A identificação dos riscos do projeto é uma das tarefas do gerente de projetos que exige larga experiência e habilidades de comunicação. Consultar a equipe do projeto está entre as técnicas existentes para identificação dos riscos, assim como (FCC, 2014)

- A elaborar um plano de contingência.
- B discernir a magnitude do risco.
- C utilizar a teoria de probabilidades.
- D consultar os registros de projetos similares.
- E transferir os riscos.

**Questão 24** No intuito de melhorar a comunicação interpessoal e intergrupual numa organização de grande porte deve-se (FCC, 2009)

- A aperfeiçoar os fluxos descendentes e formais de comunicação escrita para melhorar a imagem da direção.
- B centralizar os fluxos ascendentes e informais de comunicação oral visando elevar o controle gerencial.
- C estimular os fluxos horizontais de comunicação informal e oral entre todos os funcionários em torno de metas e projetos.
- D incentivar a comunicação formal e escrita entre os altos dirigentes dos setores de marketing e RH.
- E reduzir os fluxos laterais de comunicação formal e informal para impedir as chamadas “centrais de boatos”.



**Questão 25** O setor de telecomunicações está mudando em uma velocidade estonteante no mundo, permitindo que vários processos de comunicação ocorram de maneira virtual. Isso tem trazido reflexos para várias funções da área de RH. Considerando essa realidade, se você fosse o gestor de uma área de RH, (VUNESP, 2010)

- A) faria pesquisas de satisfação por meio eletrônico, o que garante que as pessoas não interpretem as perguntas como ameaçadoras.
- B) usaria uma linguagem única para comunicar, por e-mail, aos empregados da fábrica e do escritório, os motivos pelos quais estão sendo criados novos cargos.
- C) proporia entrevistas de seleção por e-mail para garantir que as respostas dos candidatos não fossem decodificadas de forma inadequada.
- D) abriria um espaço no site da empresa para os empregados darem feedback sobre os programas da área de RH, avaliando, assim, se eles compreenderam os objetivos da área.
- E) usaria a rede informal de comunicação via e-mail para comunicar aspectos considerados importantes pela área de RH, uma vez que nessa rede as mensagens não se alteram.

**Questão 26** Considere uma empresa prestadora de serviços cuja estratégia seja voltada para soluções complexas para os clientes. Na perspectiva de aprendizado e crescimento, utilizando BSC, há 3 tipos de capitais que são: (FCC, 2014)

- A) humano, organizacional e informacional.
- B) social, intelectual e reputacional.
- C) processual, estrutural e sistêmico.
- D) comportamental, científico e informacional.
- E) intelectual, processual e estrutural.



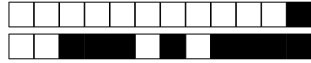
**Questão 27** Planejamento é o processo de tomar decisões sobre o futuro. O resultado do processo de planejamento é a preparação de planos, que são guias para a ação futura. Um plano deve conter (FCC, 2013)

- A) objetivo, curso de ação, previsão dos recursos necessários e meios de controle.
- B) apenas o resultado futuro desejado.
- C) a definição exclusivamente dos objetivos de longo prazo da organização.
- D) o estudo do ramo de negócios baseado em informações.
- E) todos os indicadores de funcionamento da economia.

**Questão 28** O exame nacional de cursos, no caso da Administração, determina como a primeira das habilidades do administrador a capacidade de comunicação interpessoal e expressão correta nos documentos técnicos específicos e de interpretação da realidade. (Lacombe, 2012)

A afirmação que NÃO se relaciona com o processo de comunicação na empresa é: (FCC, 2013)

- A) O ruído é tudo aquilo que não faz parte nem do emissor nem do receptor, mas interfere na mensagem distorcendo-a.
- B) Uma das formas de procurar obter a comunicação correta, é inserir a retroinformação, isto é introduzir o mecanismo de feedback, porém as distorções podem continuar.
- C) Boa parte dos problemas resultam de comunicações inadequadas, inoportunas e falhas.
- D) A mensagem pode ser transmitida na forma de um documento ou de uma comunicação visual ou audível.
- E) Em qualquer tipo de comunicação é dispensável o uso da palavra exata para exprimir o pensamento desejado.

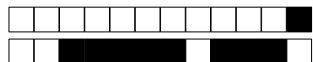


**Questão 29** No planejamento estratégico das organizações, (FCC, 2012)

- A o plano precede o processo de elaboração do planejamento, implementação e avaliação.
- B visão é o conjunto de princípios e crenças que orientam o comportamento e a atuação da organização.
- C a ferramenta de avaliação denominada benchmarking corresponde a uma forma de mensuração dos objetivos institucionais.
- D metas são partições dos objetivos a serem alcançados no curto prazo e permitem avaliar o nível de realização dos mesmos.
- E missão é o consenso dos membros da organização sobre o futuro que se deseja perseguir.

**Questão 30** Com relação aos conceitos de eficácia e eficiência, assinale a afirmativa correta. (FGV, 2016)

- A A eficácia implica em maior produtividade, independentemente dos resultados obtidos.
- B A eficiência implica em atingir os resultados, independentemente dos recursos utilizados.
- C Os resultados só ocorrem se eficiência e eficácia estão concomitantes nos processos utilizados.
- D A eficiência pode ocorrer de modo independente da eficácia, garantindo que o objetivo seja alcançado.
- E A eficácia implica na obtenção dos objetivos desejados, mesmo com o uso ineficiente de recursos.



Gabarito: 005/2018

Nome completo (extenso):  
.....

*As respostas devem ser dadas exclusivamente nesta folha: as respostas dadas nas outras folhas serão ignoradas.*

- Q. 1:  A  B  C  D  E
- Q. 2:  A  B  C  D  E
- Q. 3:  A  B  C  D  E
- Q. 4:  A  B  C  D
- Q. 5:  A  B  C  D  E
- Q. 6:  A  B  C  D  E
- Q. 7:  A  B  C  D  E
- Q. 8:  A  B  C  D
- Q. 9:  A  B  C  D
- Q. 10:  A  B  C  D
- Q. 11:  A  B  C  D
- Q. 12:  A  B  C  D  E
- Q. 13:  A  B  C  D
- Q. 14:  A  B  C  D
- Q. 15:  A  B  C  D  E
- Q. 16:  A  B  C  D  E
- Q. 17:  A  B  C  D  E
- Q. 18:  A  B  C  D  E
- Q. 19:  A  B  C  D  E
- Q. 20:  A  B  C  D
- Q. 21:  A  B  C  D  E
- Q. 22:  A  B  C  D  E
- Q. 23:  A  B  C  D  E
- Q. 24:  A  B  C  D  E
- Q. 25:  A  B  C  D  E
- Q. 26:  A  B  C  D  E
- Q. 27:  A  B  C  D  E
- Q. 28:  A  B  C  D  E
- Q. 29:  A  B  C  D  E
- Q. 30:  A  B  C  D  E